

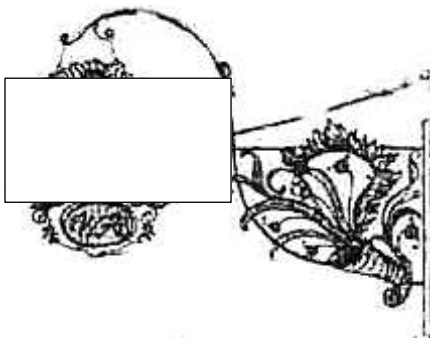
„ Murrhardter Stadtspiel“ - B für 5.und 6.Klasse

© Christian Schweizer, Carl-Schweizer-Museum

1.Namen der Gruppe:

.....

2.Aktives Stadtspiel Startpunkt Marktplatz



2.1 Auf dem Bild seht Ihr einen Ausschnitt eines Murrhardter Wirtshausschildes. (heute ein Geschäft für Tierbedarf) Beschreibt, was Ihr auf drei Wirtshausschildern entdeckt, die Ihr vom Marktbrunnen aus seht! (Eines ist etwas versteckt hinterm Rathaus).

1..... 2. 3.....
(3 Punkte)



2.2. Stadtkirche. Nachdem die/der älteste Eurer Gruppe (Name.....) die **Uhrzeit** am Kirchturm abgelesen hat, beantwortet folgende Frage: Wer ist im großen Mittelfenster hinter dem Altar zu sehen? Kann man auch von außen erkennen!

Uhrzeit Fensterfigur: Ch..... oder ... e. ... s
(2 Punkte)



Achtet auf die Zeit !
Trödelt nicht !
Seid schnell


2.3 Wer steht denn auf dem Murrhardter Marktbrunnen ?.....
Es gibt da in der Nähe eine große Tafel, die kann Euch helfen.
Was war er von Beruf?..... (2 Punkte)

2.4. An einem Haus am Marktplatz, das einen goldenen Engel als Zeichen hat, findet ihr dieses Wappen. Aber ihr müßt das fehlende Teil ergänzen— also dazu zeichnen . Tipp: Es sind zwei Lebewesen die im Wasser leben.
.....



(4Punkte)

2.5 Am Rathaus findet Ihr das folgende Zeichen. Auch das sollt ihr ergänzen und aufschreiben wieviel Uhr die Rathausuhr auf dem kleinen Türmchen zeigt.



Uhrzeit ? (3 Punkte)

2.6. Frage : Murrhardt liegt in welchem Naturpark ? Kreuzt das RICHTIGE an.

..... Naturpark Schwäbischer Wald

.....Naturpark Schwedisch-Fränkischer-Wald

.....Naturpark Schwäbisch-Fränkischer-Wald

.....Naturpark Schwäbisch-Französische-Alb

(3 Punkte)



Achtet auf die
Uhrzeit

Nicht trödeln !

2.7 In der Klosterbackstube, müsst Ihr drei Getreidesorten fragen und aufschreiben, aus welchen Brot hergestellt werden kann:

1..... 2..... 3.....
(3 Punkte)



2.8 Auf dem Bild seht Ihr einen Ausschnitt aus einer Figur! Findet sie und schreibt den Satz, in dem das Wort „Demokratie“ vorkommt, auf! Wie heißt der Mann der hier als Figur dargestellt ist?

Tipp: Der Platz trägt seinen Namen, das steht da irgendwo.

.....
.....
.....
.....

Name:

.....


(10 Punkte)

2.9. Der zweite Weltkrieg war am 8. Mai 1945 zu Ende. In Murrhardt trafen sich die ersten Demokraten nach dem Krieg in dem ehemaligen Gasthof „Sonne-Post“. Hier seht ihr ein Foto der Tafel. Wann war das? Schreibt das Datum auf.



Datum.....

(10 Punkte)



3.0 An der Walterichskapelle sind spezielle Tiere gleich mehrfach aus Stein dargestellt. Wie viele hat es den dort? Kleine und große zusammengezählt? (8 Punkte)

Wieviel Uhr ist es jetzt ? Hier notieren

3.1. In Murrhardt gibt es einen besonderen frommen Mann in der Geschichte. Er war Abt, eine Apotheke trägt seinen Namen und mehrere Kirchen. Wie ist sein Name ? e r (2 Punkte)

Geht von der Kapelle in Richtung Kino und etwas weiter.....



3.2 Das Carl-Schweizer-Museum, ihr solltet es finden und herausbekommen wann es gegründet wurde. Das steht da irgendwo an der Tür. Man kann hier Tiere, ein „echtes“ Einhorn und Römerschätze anschauen. Wann wurde es gegründet? (4Punkte)

Geht zurück zur Hauptstraße

3.3 Es gibt eine Gasse die von der Hauptstraße in die Grabenstraße führt. deren Namen an den schrecklichen Stadtbrand, 1765, in Murrhardt erinnert. Schreibt den Namen dieser Gasse auf. Tipp: In der Gasse ist das Gasthaus Traube.
(10Punkte)

Geht auf die Hauptstraße zurück



3.3 Welche Militärkohorte war denn in Murrhardt, wie Ihr auf dem Schild am „Oberen Tor“ lesen könnt?
ANTWORT : Die XX..... Kohorte

Auf dem Schild steht eine Erklärung in englischer Sprache. Übersetze den ersten Satz:.....
.....
.....
.....

(20Punkte)

3.4 Nun geht die Löwengasse hinunter und durch die Unterführung. Dort ist eine Tafel mit einem Bild. Wer war das? Wer ist darauf dargestellt?



Name des abgebildeten Mannes :

Daneben steht ein Haus. Wann wurde es erbaut?
(2 Punkte)

3.5. Ihr kommt an das Ärztehaus. Was für Arten von Ärzten gibt es denn im Ärztehaus?

.....
.....
.....

(10 Punkte)

Von welchem Gebäude stammen die historischen Mauern?

.....
(5Punkte)

3.6 Nun eine kleine Rechenaufgabe: Zählt alle Jahreszahlen in euren ANTWORTEN auf diesem Blatt zusammen, teilt die durch 3 und addiert die Postleitzahl von Murrhardt (😊 erfragen !) Ergebnis:

.....
.....
+ = ----- : 3 = -----

+ PLZ =

(1 Punkt aber der Wichtigste vom Spiel!)

3.7 Nun schauen wir mal, wer den Parcours am schnellsten schafft!

Uhrzeit Ankunft am Ärztehaus:

Unterschriften von allen, die in eurer Gruppe waren, hier eintragen:

.....

.....

.....

.....

.....

PRIMA, DANKE fürs Mitmachen, Viel Glück!

